

**1. Tko je sudionik u prometu na cesti?**

1. osoba koja na bilo koji način sudjeluje u prometu na cesti
2. osoba koja ni na koji način ne sudjeluje u prometu na cesti


**2. Zbog čega vozač ne smije tijekom upravljanja vozilom koristiti mobilni telefon na način koji bi umanjio mogućnost reagiranja i sigurnog upravljanja vozilom?**

1. zbog toga što korištenje mobilnog telefona smanjuje njegovu pozornost i koncentraciju
2. zbog toga što korištenje mobilnog telefona smanjuje vrijeme reagiranja vozača

**3. Zašto je vozaču pravodobno uočiti opasnost u prometu?**

1. zato da može pravodobno reagirati na tuđe pogreške
2. zato što može izbjegavati konkretne opasnosti
3. zato što može dulje vrijeme nesmetano slušati radijski program

**4. Koje opasnosti prepoznajete u situaciji na slici?**



1. mokar i sklizak kolnik ceste
2. opasna uzbrdica
3. slabije prijanjanje guma

**5. Što trebate izbjegavati kad naiđete na ovaj prometni znak?**



1. sporu vožnju ako je sklizak kolnik
2. nagle pokrete upravljačem ako je sklizak kolnik
3. naglo kočenje ako je sklizak kolnik

**6. Na što ukazuje ovaj prometni znak s dopunskom pločom?**



1. na raskrižju s cestom s prednošću prolaska na udaljenosti 50 metara
2. na obvezno zaustavljanje na udaljenosti 50 metara

**7. Na što ukazuje ovaj prometni znak obavijesti?**

1. na početak brze ceste
2. na ograničenje brzine na toj cesti 110 km na sat
3. da je dopuštena vožnja samo osobnim automobilima



**8. Koji je raspored prometnih svjetala na semaforu postavljenom iznad prometne trake po vodoravnoj osi slijeva udesno?**

1. crveno lijevo, žuto u sredini, zeleno desno
2. zeleno lijevo, žuto u sredini, crveno desno
3. crveno desno, žuto u sredini, zeleno lijevo

**9. Čemu služi razdjelna crta na kolniku u situaciji kao na slici?**



1. za razdvajanje dvosmjernih prometnih površina
2. za razdvajanje prometne površine i ruba kolnika
3. za razdvajanje prometne površine i bankine

**10. Vožite noću. Razmak između smjerkaznih stupića na kolniku se smanjuje. Što to znači?**

1. približavanje zavoju
2. približavanje ulasku u tunel
3. približavanje mostu

**11. Što znači položaj tijela i znak koji daje policijski službenik na slici?**



1. slobodan prolazak za vozila koja nailaze s bočnih strana policijskog službenika
2. obvezno zaustavljanje svih sudionika u prometu
3. zabranu prolaska za vozila koja nailaze s bočnih strana policijskog službenika

**12. Kada je za vozača iznimno važna prilagodba očiju na svjetlo i tamu?**

1. pri vožnji velikim brzinama
2. u noćnoj vožnji
3. pri vožnji tunelom koji je osvijetljen

13. Kako treba postupiti vozač vozila da bi pravodobno uočio prometnu situaciju tijekom vožnje u situaciji kao na slici?



1. voziti na potrebnom razmaku iza teretnog automobila
2. predviđati potencijalne opasnosti
3. položajem vozila zauzeti poziciju za pravodobno uočavanje uvjeta

14. Vozeći prilazite ovom prometnom znaku. Kako ćete postupiti?



1. voziti s povećanim oprezom
2. povećati brzinu vožnje
3. očekivati pješake koji se kreću cestom

15. Što mora učiniti vozač koji se sa zemljane ceste uključuje na cestu sa suvremenim kolničkim zastorom?

1. zaustaviti vozilo kako bi propustio vozila koja nailaze cestom
2. nastaviti vožnju bez zaustavljanja ako nema vozila
3. ukloniti blato s kotača ako ga ima

16. Kako treba postupiti vozač vozila koji se kreće unatrag?



1. propustiti vozilo koje dolazi iz suprotnog smjera
2. propustiti vozilo koje dolazi iza njegovog vozila
3. uključiti sve pokazivače smjera

17. O čemu se mora voditi računa prilikom mijenjanja prometne trake?


1. bočnim smetnjama uz cestu
2. sigurnosti drugih sudionika
3. položaju vozila, smjeru i brzini vožnje

18. Približavate se vozilom raskrižju i namjeravate voziti ravno u situaciji kao na slici. Kako ćete postupiti? (crveno svjetlo na semaforu)



1. zaustaviti vozilo na potrebnom razmaku iza zaustavljenog vozila
2. nastaviti vožnju nakon što se upali zeleno svjetlo
3. prestrojiti se u lijevu prometnu traku i nastaviti vožnju

19. Kako ćete postupiti u situaciji kao na slici?




1. propustiti vozilo iz suprotnog smjera
2. voziti prije vozila iz suprotnog smjera

20. Zbog čega morate, u situaciji kao na slici, propustiti motocikl?



1. zbog toga što nailazim na cestu s prednošću prolaska
2. zbog toga što nailazite s lijeve strane
3. zbog toga što zadržavate smjer vožnje

21. Kako ćete postupiti u situaciji kao na slici?



1. propustiti vozilo policije
2. voziti prije vozila hitne pomoći
3. propustiti vozilo hitne pomoći

22. Zbog čega morate, u situaciji kao na slici, propustiti vozilo koje nailazi iz suprotnog smjera?



1. zbog toga što to vozilo skreće udesno
2. zbog toga što to vozilo nailazi cestom s prednošću prolaska
3. zbog toga što vozilom skrećete ulijevo

23. S koje se strane, u pravilu, obavlja mimoilaženje?

1. s desne strane
2. s lijeve strane

24. Smije li vozač osobnog automobila ispred vas pretjecati teretni automobil u situaciji kao na slici?



1. smije, jer je cesta dovoljno pregledna
2. ne smije, jer nailaze vozila iz suprotnog smjera

25. Kolika mora biti najmanja širina slobodnog prolaza na dijelu ceste od zaustavljenog ili parkiranog vozila do pune uzdužne crte na kolniku?

26. Na kojem dijelu kolnika vozač koji se isključuje iz prometa na autocesti mora početi usporavati svoje vozilo?

1. na desnoj prometnoj traci
2. na traci za usporavanje vozila

27. Što morate imati od navedenog kao obveznu opremu u osobnom automobilu?

1. sigurnosni trokut
2. rezervne žarulje
3. uže za vuču

28. Koja je svrha uključivanja stop-svjetala na motornom vozilu?

1. obavijest vozaču koji vozi iza na promjenu smjera
2. obavijest vozaču koji vozi iza na smanjenje brzine
3. obavijest vozaču koji vozi iza na povećanje brzine

29. Smiju li se vučnim vozilom prevoziti osobe?

1. smiju, samo uz posebno odobrenje
2. smiju ako ima dovoljno mjesta
3. ne smiju

30. Po čemu se prepoznaje vozilo kojim se organizirano prevoze djeca?

1. po postavljenom sigurnosnom trokutu s prednje i stražnje strane vozila
2. po posebnim znakovima postavljenim na prednjoj i stražnjoj strani vozila
3. po pravokutnoj ploči žute boje s crnim rubom na prednjoj i stražnjoj strani vozila

31. Kojom brzinom vam je dopušteno voziti nakon znaka u situaciji kao na slici?



1. brzinom do 40 km na sat kroz cijelo naselje
2. brzinom do 50 km na sat nakon izlaska iz tog područja
3. brzinom do 40 km na sat do prvoga raskrižja

**32. Koje posebne opasnosti prijete u vožnji na cesti izvan naselja u vrijeme turističke sezone?**

1. vrlo velik broj vozila
2. nervozni vozači kojima se žuri
3. smireno i kulturno

**33. Koliki, u pravilu, treba biti razmak između vozila u vožnji cestom izvan naselja ako su normalni vremenski uvjeti?**



1. četiri sekunde
2. dvije sekunde
3. jednu sekundu

**34. Na koje opasnosti morate računati u situaciji kao na slici?**



1. na premali bočni razmak
2. na nepoštivanje zabrane pretjecanja
3. na nailazak vozila iz suprotnog smjera

**35. Koje opasnosti možete predvidjeti za vožnje nizbrdicom?**

1. produljen put kočenja
2. kraći zaustavni put
3. pregrijavanje kočnica

**36. Na kojoj se propisanoj udaljenosti od mjesta prometne nesreće postavlja sigurnosni trokut na cesti izvan naselja?**

1. prema procjeni vozača
2. najmanje 150 metara
3. najmanje 100 metara

**37. Kako ćete postupiti pri mimoilaženju u situaciji kao na slici?**



1. voziti s uključenim kratkim svjetlima
2. povećati brzinu
3. pogled usmjeriti prema desnom rubu kolni

**38. Koje opasnosti su moguće tijekom vožnje u situaciji kao na slici?**



1. smanjena preglednost
2. smanjena vidljivost iz vozila
3. nastanak vodenog klina

**39. Kako ćete postupiti, u situaciji kao na slici, pri mijenjanju prometne trake?**



1. naglo kočiti
2. voziti po tragovima drugih vozila
3. prilagoditi brzinu stanju kolnika

<b>Test 9</b>
<b>1. 1</b>
<b>2. 1</b>
<b>3. 12</b>
<b>4. 13</b>
<b>5. 23</b>
<b>6. 1</b>
<b>7. 12</b>
<b>8. 1</b>
<b>9. 1</b>
<b>10. 1</b>
<b>11. 1</b>
<b>12. 2</b>
<b>13. 123</b>
<b>14. 13</b>
<b>15. 13</b>
<b>16. 23</b>
<b>17. 23</b>
<b>18. 12</b>
<b>19. 1</b>
<b>20. 1</b>
<b>21. 13</b>
<b>22. 13</b>
<b>23. 2</b>
<b>24. 2</b>
<b>25. 3 m</b>
<b>26. 2</b>
<b>27. 12</b>
<b>28. 2</b>
<b>29. 3</b>
<b>30. 2</b>
<b>31. 2</b>
<b>32. 12</b>
<b>33. 2</b>
<b>34. 13</b>
<b>35. 13</b>
<b>36. 3</b>
<b>37. 13</b>
<b>38. <u>23</u></b>
<b>39. 23</b>