

1. Vozite desnom prometnom trakom u situaciji kao na slici. Koja prometna traka se nalazi desno od trake po kojoj vozite?



1. prometna traka za usporavanje
2. prometna traka za spora vozila
3. prometna traka za zaustavljanje vozila u nuždi

2. Što je najveća dopuštena masa vozila?

1. masa vozila s njegovom nosivošću
2. masa tereta koji se može utovarti na vozilo
3. masa vozila s teretom u vozilu i na vozilo

3. Koje su odlike defenzivnog vozača?

1. pravodobno i pravilno reagiranje
2. koncentracija i oprez
3. impulzivnost i samodokazivanje

4. O čemu ovisi duljina puta reagiranja?

1. brzini vožnje
2. vremenskim prilikama
3. vremenu reagiranja vozača

5. Na koju opasnost upozorava postavljeni prometni znak u situaciji kao na slici?



1. na mogući nailazak na kolonu vozila na udaljenosti 1200 metara nakon znaka
2. na kolonu vozila u duljini 1200 metara od znaka
3. na nailazak kolone vozila iz suprotnog smjera na udaljenosti 1200 metara nakon znaka

6. Kako ćete postupiti nakon ovog prometnog znaka?

1. voziti brže od 50 km na sat
2. smanjit ćete brzinu ako vozite preko ograničenja i voziti do 50 km na sat




7. O čemu vozača obavještuje prometni znak na slici?



1. zabrani pretjecanja svih motornih vozila osim motocikla bez prikolice i mopeda
2. prestanku zabrane pretjecanja svih motornih vozila osim motocikla bez prikolice i mopeda
3. prestanku svih zabrana

8. Kako ćete postupiti u situaciji kao na slici ako namjeravate skrenuti ulijevo kad dođete do semafora?



1. nastaviti vožnju ulijevo
2. zaustaviti vozilo i čekati slobodan prolazak
3. nastaviti vožnju ravno


9. Je li dopušteno pretjecati vozilo u situaciji kao na slici?



1. dopušteno je ako nema vozila iz suprotnog smjera
2. nije dopušteno pretjecanje vozila
3. dopušteno je, bez obzira na vozila iz suprotnog smjera

10.Što znači položaj tijela i znak koji daje policijski službenik u situaciji kao na slici?

1. zabranu prolaska za sve sudionike u prometu čiji smjer kretanja siječe smjer ispružene ruke policijskog službenika
2. dopušten prolazak svim sudionicima koji nailaze s bočnih strana policijskog službenika
3. dopušten prolazak svim sudionicima u prometu čiji smjer kretanja siječe smjer ispružene ruke policijskog službenika



11.Kako ćete postupiti u situaciji kao na slici?




1. voziti što bliže uzdužnoj crti na kolniku
2. prilagoditi brzinu vožnje polumjeru zavoja i preglednosti
3. voziti što bliže desnom rubu kolnika

12.Kako vozač tijekom vožnje treba postupiti u situaciji kao na slici?



1. očekivati opasnost na cesti
2. voziti brzinom 90 km na sat
3. prilagoditi brzinu vožnje prometnom znaku

13.Vozite automobil cestom u situaciji kao na slici.Kako ćete postupiti?



1. smanjiti brzinu i očekivati iznenadne postupke biciklista
2. voziti ne smanjujući brzinu jer biciklist vozi biclističkom stazom
3. voziti na sigurnom bočnom razmaku od bicikla

14. Kako morate voziti kolnikom na kojem prometne trake nisu obilježene u situaciji kao na slici?



1. sredinom kolnika
2. desnom stranom u smjeru vožnje
3. što bliže lijevom rubu kolnika u smjeru


15. Kolika je najveća dopuštena brzina kretanja vozila na brzoj cesti i cesti namijenjoj isključivo za promet motornih vozila?

1. 90 km na sat
2. 100 km na sat
3. 110 km na sat

16. Koja vozila ste dužni propustiti na raskrižju cesta iste važnosti bez obzira na smjer iz kojeg dolaze, osim ako postavljenim prometnim znakom nije drukčije određeno?


1. teretne automobile
2. motocikle i mopede
3. vozila koja se kreću po tračnicama

17. Kako ćete postupiti u situaciji kao na slici?(sivi s lijeve, crveni s desne strane)




1. propustiti oba automobila
2. voziti poslije crvenog a prije sivog automobila
3. voziti prvi raskrižjem

18. Zbog čega morate, u situaciji kao na slici, propustiti vozilo koje nailazi iz suprotnog smjera?



1. zbog toga što zadržava smjer kretanja
2. zbog toga što nailazi s glavne ceste
3. zbog toga što vozilom skrećete ulijevo

19. Kako ćete postupiti u situaciji kao na slici?



1. propustiti autobus
2. voziti prije autobusa
3. vozit poslije crvenog vozila

20. Kako ćete postupiti u situaciji kao na slici?



1. propustiti osobni automobil
2. voziti prije osobnog automobila

21. Što je obilaženje?

1. prolaženje vozilom pokraj zaustavljenog ili parkiranog vozila ili drugog objekta koji se nalazi na prometnoj traci kojom se vozilo kreće
2. prolaženje vozilom pokraj zaustavljenog ili parkiranog vozila ili drugog objekta koji se nalazi na prometnoj traci za vozila iz suprotnog smjera

22. Smije li se u situaciji kao na slici pretjecati vozilo ispred?



1. smije nakon što prođe vozilo iz suprotnog smjera
2. ne smije jer to nije dopušteno prometnim propisima
3. smije jer nema prometnog znaka zabrane pretjecanja

23. Kako mora postupiti vozač koji se vozilom približava prijelazu ceste preko željezničke pruge u istoj razini, u situaciji kao na slici?



1. proći prije vlaka
2. običi polubranike dok nema vlaka
3. zaustaviti vozilo ispred polubranika

24. Kako se morate ponašati ako susretnete vozila pod pratnjom?

1. nastaviti kretanje uz povećan oprez
2. zaustaviti svoje vozilo
3. držati se naredaba koje daju osobe iz pratnje

25. Što označuje žaruljica na instrumentnoj ploči sa simbolom kao na slici? (plave boje)

1. uključena duga svjetla
2. uključena kratka svjetla
3. uključena svjetla za maglu



26. Do koje nosivosti smijete opteretiti vaše vozilo?

1. do nosivosti koja je upisana u prometnu dozvolu
2. do nosivosti koja se može smjestiti na vozilo
3. do nosivosti koja je jednaka masi vozila

27. Kada se vozilom isključujete iz raskrižja s kružnim tokom prometa, kako ćete upozoriti druge sudionike?



1. uključiti ćete lijevi pokazivač smjera
2. uključiti ćete desni pokazivač smjera
3. nećete ih upozoriti

28. Na kojim mjestima u gradu ne smijete parkirati?



1. na mjestima gdje bi svojim položajem onemogućili drugim sudionicima preglednost
2. na mjestima koja su obilježena odgovarajućim znakom
3. na mjestima gdje bi svojim položajem zaklonili postavljene prometne znakove

29. Zbog čega morate dobro procijeniti brzinu vozila koja nailaze cestom na koju se uključujete?

1. zbog toga da ne dođe do ometanja vozila koja nailaze tom cestom
2. zbog toga da ne dođe do ugrožavanja vozila koja nailaze tom cestom
3. zbog toga da se možete što kasnije uključiti na tu cestu

30. Koja su obilježja vožnje u koloni?

1. vožnja različitim brzinama
2. brzine i postupci vozača su međusobno uvjetovani
3. učestala pretjecanja

31. Kako treba postupiti vozač vozila koji pretječe u situaciji kao na slici?



1. paziti na vozila iz suprotnog smjera
2. čim prije sigurno obaviti pretjecanje
3. obavezno uključiti desni pokazivač smjera

32. Vozite cestom u situaciji kao na slici. Kako ćete postupiti?



1. prema potrebi smanjiti brzinu
2. voziti sredinom kolnika
3. čvrsto držati upravljač

33. Kako se vozač treba ponašati na skliskom kolniku?

1. ne smije naglo okretati upravljač i naglo kočiti
2. ne smije naglo puštati papučicu spojke i naglo dodavati snagu motora
3. ne smije mijenjati u nižu brzinu

34. Koje opasnosti mogu nastati tijekom vožnje po kiši?

1. zanošenje ili slijetanje vozila s ceste
2. smanjena vidljivost
3. sklizak kolni

Test 18	
1.	3
2.	1
3.	12
4.	13
5.	1
6.	2
7.	2
8.	2
9.	2
10.	1
11.	23
12.	13
13.	13
14.	2
15.	3
16.	3
17.	1
18.	13
19.	1
20.	2
21.	1
22.	2
23.	3
24.	23
25.	1
26.	1
27.	2
28.	13
29.	12
30.	2
31.	12
32.	13
33.	12
34.	123
35.	x
36.	x
37.	x
38.	x