

1. Vozite desnom prometnom trakom u situaciji kao na slici. Koja prometna traka se nalazi desno od trake po kojoj vozite?



1. prometna traka za ubrzavanje
2. prometna traka za usporavanje
3. prometna traka za spora vozila

2. Kada mladi vozač koji posjeduje vozačku dozvolu B kategorije ne smije upravljati vozilom?

1. kada u organizmu ima opojnih droga ili ako pokazuje znakove alkoholiziranosti
2. kada organizirano prevozi djecu
3. kada snaga motora osobnog automobila prelazi 80 kW

3. Što znači defenzivno voziti?

1. voziti s predviđanjem
2. uvijek voziti polagano
3. voziti izbjegavajući rizik

4. Što je put kočenja?

1. put koji prijeđe vozilo od trenutka kada vozač pritisne na papučicu kočnice pa do potpunog zaustavljanja vozila
2. put koji prijeđe vozilo od trenutka kada je vozač uočio opasnost na cesti pa do potpunog zaustavljanja vozila

5. Na koju opasnost upozorava postavljeni prometni znak u situaciji kao na slici?



1. na više uzastopnih zavoja u duljini 2000 metara od znaka od kojih je prvi ulijevo
2. na više uzastopnih zavoja na udaljenosti 2000 metara nakon znaka od kojih je prvi ulijevo
3. na više uzastopnih zavoja u duljini 2000 metara od znaka od kojih je prvi udesno

6. Na što ukazuje ovaj prometni znak s dopunskom pločom?

1. da nakon 100 metara morate propustiti vozila ako nailaze cestom
2. obavezno zaustavljanje nakon 100 metara
3. da nakon 100 metara imate prednost prolaska



7. O čemu vozača obavještuje prometni znak na slici?



1. načinu prestrojavanja vozila
2. pružanju ceste s prednošću prolaska
3. mogućim smjerovima kretanja na raskrižju

8. Koji od prometnih znakova najavljuje približavanje raskrižju na kojemu se prometom upravlja prometnim svjetlima-semaforima?




9. Čemu služi dvostruka kombinirana crta na kolniku u situaciji kao na slici?



1. za dopuštanje pretjecanja samo u jednom smjeru
2. za dopuštanje pretjecanja u oba smjera
3. za zabranu pretjecanja u oba smjera

10. Kako ćete postupiti približavajući se vozilom policijskom službeniku u situaciji kao na slici koji je prsima okrenut prema vama?

1. obvezno zaustaviti vozilo
2. ubrzati i što prije proći
3. pratiti znak policijskog službenika



11. Kako ćete postupiti pri nailasku na prometni znak u situaciji kao na slici?

1. pravodobno se pripremiti na obilaženje pješaka ako prelaze preko kolnika
2. povećati pozornost i smanjiti brzinu
3. pravodobno se pripremiti za sigurno zaustavljanje



12. Što utječe na uočavanje prometne situacije tijekom vožnje u situaciji kao na slici?



1. vrsta prometnog znaka
2. snaga automobila kojim vozač upravlja
3. brzina vožnje

13. S čime mora računati vozač za vožnje noću?

1. s time da se možda cestom kreće pješak koji se slabo uočava
2. s tim da je možda na kolniku zaustavljeno vozilo koje nije osvijetljeno

14. Vozite automobil cestom u situaciji kao na slici. Kako ćete postupiti?



1. voziti oprezno pokraj biciklista
2. pratiti pogledom bicikliste i očekivati njihove iznenadne postupke
3. voziti na sigurnom bočnom razmaku od biciklista

15. Vozeći cestom naišli ste na ovaj prometni znak. Kako ćete postupiti?

1. nastavljate voziti jer su biciklisti obvezni propustiti vozila
2. morate se obvezno zaustaviti i ako nema biciklista
3. ako je potrebno zaustaviti se ispred obilježenog prijelaza biciklističke staze
4. ako ima biciklista, stati i propustiti ih




16. Kako je dužan kretati se vozač vozilom kolnikom na kojem prometne trake nisu obilježene?

1. što bliže sredini kolnika
2. što bliže desnom rubu kolnika
3. lijevom stranom kolnika

17. Kolika je najveća dopuštena brzina kretanja vozila na autocesti?


km na sat

18. Vozač crvenog automobila namjerava skrenuti ulijevo u situaciji kao na slici. Vi kao vozač crnog automobila vozite ravno. Kako ćete postupiti?




1. propustiti crveni automobil
2. voziti prije crvenog automobila
3. dogovoriti se oko propuštanja

19. Zbog čega morate, u situaciji kao na slici, propustiti crveni automobil?



1. zbog toga što nailazi s desne strane, a kreće se cestom s prednošću prolaska
2. zbog toga što nailazi s desne strane, a kreće se sporednom cestom

20. Kako ćete postupiti u situaciji kao na slici?



1. voziti prije crnog automobila
2. propustiti crveni automobil
3. propustiti crni automobil

21. Kako ćete postupiti u situaciji kao na slici?



1. propustiti vozilo koje nailazi s moje desne strane
2. voziti prije vozila koje dolazi iz suprotnog smjera
3. propustiti vozilo koje dolazi iz suprotnog smjera

22. Što je pretjecanje?

1. prolaženje vozilom pokraj drugog vozila koje se kreće iz suprotnog smjera
2. prolaženje vozilom pokraj drugog vozila koje se kreće u istom smjeru
3. prolaženje vozilom iz jedne u drugu prometnu traku za promet u istom smjeru

23. Zbog čega ne smijete pretjecati vozilo u situaciji kao na slici?



1. zbog prometnog znaka "zabranjeno pretjecanje"
2. zbog oznaka na kolniku
3. zbog toga što je nepregledan zavoj

24. Kako se označuje zaustavljena kolona vozila na cesti izvan naselja?

1. jednim sigurnosnim trokutom
2. s dva sigurnosna trokuta postavljena jedan iza drugoga
3. s dva sigurnosna trokuta postavljena jedan pokraj drugoga

25. Koja se vozila smatraju vozilima pod pratnjom?

1. vozila hitne pomoći
2. vozila koja prate pripadnici policije
3. vozila vatrogasne službe

26. Koji od uređaja pripadaju u uređaje za osvjetljavanje ceste?

1. glavna svjetla
2. svjetla za maglu
3. parkirna svjetla

27. Što označuje žaruljica na instrumentnoj ploči sa simbolom kao na slici?

1. ABS nije u funkciji
2. uključeni svi pokazivači smjera
3. aktivirana parkirna kočnica



28. Do kojeg odredišta se smije vući neispravno vozilo autocestom ako se neispravnost dogodila na autocesti?

1. do odredišta do kojeg plaćena cestarina
2. do bilo kojeg odredišta
3. samo do prvog izlaza s autoceste

29. Što znači ekonomično voziti?

1. ne ubrzavati naglo, izbjegavati česta i nagla kočenja
2. naglo kočiti i voziti maksimalnu količinu tereta na krovu i u prtljažniku
3. voziti u optimalnom području broja okretaja motora

30. Koje su moguće opasnosti za vrijeme vožnje raskrižjem s kružnim tokom prometa s dvije prometne trake?



1. povećan broj potencijalnih točaka sudara
2. postupci mijenjanja prometnih traka
3. opasna i neželjena skretanja ulijevo

31. U situaciji kao na slici, gdje ćete parkirati vozilo?



1. na nogostupu
2. uz desni rub kolnika
3. na sredini kolnika
4. odustat ćete od namjere

32. Što vozač pri uključivanju vozilom u promet na cestu izvan naselja mora dobro procijeniti?



1. brzinu i udaljenost vozila koja nailaze tom cestom
2. istrošenost guma vozila koja nailaze tom cestom
3. siguran trenutak uključivanja

33. Kako se trebate ponašati pri vožnji u koloni u situaciji kao na slici?



1. održavati potreban razmak
2. promatrati stop-svjetla na vozilima
3. kad je to moguće, obavljati pretjecanje kolone

34. Pretječe vas drugo vozilo na cesti koja nije dovoljno široka. Kako ćete postupiti?

1. pomaknuti svoje vozilo što više udesno
2. ako je potrebno, čim bude moguće, zaustaviti vozilo na prikladnom mjestu
3. ubrzati i maksimalnom brzinom voziti po toj dionici ceste

35. Vozite autocestom u situaciji kao na slici. Kako ćete postupiti?



1. prema potrebi smanjiti brzinu
2. povećati brzinu
3. čvrsto držati upravljač

36. Što se razumijeva pod zimskom opremom osobnog automobila?

1. zimske gume samo na pogonskim kotačima
2. ljetne gume s najmanjom dubinom profila 4 mm i s lancima za snijeg na pogonskim kotačima
3. zimske gume na svim kotačima

37. Kako ćete postupiti, u situaciji kao na slici, pri mijenjanju prometne trake?



1. naglo kočiti
2. voziti po tragovima drugih vozila
3. prilagoditi brzinu stanju kolnika

38. Zašto je u zimskim uvjetima obavezna uporaba zimske opreme?

1. manja je mogućnost zanošenja i klizanja vozila
2. smanjuje se potrošnja goriva
3. bolje je prijanjanje guma za podlogu

<i>Test 17</i>
1. 2
2. 13
3. 13
4. 1
5. 1
6. 12
7. 13
8. 1
9. 1
10. 13
11. 23
12. 13
13. 12
14. 123
15. 34
16. 2
17. 130kmh
18. 2
19. 1
20. 23
21. 13
22. 2
23. 23
24. 3
25. 2
26. 12
27. 1
28. 3
29. 13
30. <u>2</u>
31. 4
32. 13
33. 12
34. 12
35. 13
36. 23
37. 23
38. 13