

**1. Što je motorno vozilo?**

1. svako vozilo koje se pokreće snagom vlastitog motora, osim vozila koja se kreću po tračnicama
2. svako prijevozno sredstvo namijenjeno za kretanje po cesti

**2. S kojim rokom važenja se izdaje vozačka dozvola?**

1. s rokom važenja do 80. godine života
2. s rokom važenja do 65. godine života
3. s rokom važenja do 70. godine života

**3. Što vozač mora neprekidno procjenjivati za vrijeme vožnje?**

1. uvjete vožnje i razinu opasnosti
2. koliko dugo može telefonirati
3. namjere ostalih sudionika u prometu

**4. Kako se očituju sposobnosti kod umornog vozača?**

1. slabi pozornost i koncentracija
2. reakcije su iznenadne i u pravilu netočne
3. reakcije su točne i brze

**5. Što osigurava poprečni nagib kolnika u smjeru centra zavoja?**



1. odvodnju vode s kolnika
2. povećanje utjecaja centrifugalne sile
3. sigurniji prolazak zavojem

**6. Kako ćete postupiti za vožnje u situaciji kao na slici?**




1. obaviti obilaženje s desne strane
2. prilagoditi brzinu i način vožnje situaciji na cesti
3. voziti lijevom prometnom trakom dok ne prođete mjesto radova

**7. Kako ćete postupiti kad naiđete na ovaj prometni znak?**

1. smanjiti brzinu i povećati oprez
2. voziti nesmanjenom brzinom
3. preko pruge prijeći tek kada se uvjerite da ne nailazi vlak



**8. Koji prometni znak označuje obvezan smjer vožnje?**



**9. Na koju obavijest ukazuje ovaj prometni znak s dopunskom pločom?**

1. da se cesta s prednošću prolaska proteže ulijevo
2. na obavezno skretanje udesno
3. da se cesta s prednošću prolaska proteže udesno



**10. Što za vozača znači istovremeno upaljeno crveno i žuto svjetlo na semaforu?**



1. slobodan prolazak
2. zabranu prolaska
3. skori prestanak zabrane prolaska

**11. Što označuje rubna crta na kolniku u situaciji kao na slici?**



1. prometnu traku
2. kolničku traku
3. rub vozne površine kolnika

**12.Što se na cesti označuje pločom kao na slici?**

1. zapreka na cesti
2. bočne smetnje na cesti
3. zavoj na cesti



**13.Što znači jedan zvižduk zviždaljkom koji daje policijski službenik?**

1. poziv sudionicima u prometu da obrate pozornost na policijskog službenika koji će izraziti određeni zahtjev
2. upozorenje da je određeni sudionik u prometu postupio protivno zahtjevu policijskog službenika
3. upozorenje određenom sudioniku u prometu na povećanje brzine kretanja

**14.Što vozač mora stalno pratiti za vrijeme vožnje?**

1. prometne uvjete na cesti kojom vozi
2. jambo plakate
3. kretanje ostalih sudionika u prometu

**15.Pomoću čega vozač obavlja provjeru prometnih uvjeta?**



1. pomoću unutarnjeg zrcala, vanjskih zrcala i pogledom preko ramena
2. samo pomoću vanjskih zrcala i pogledom preko ramena
3. samo pomoću unutarnjeg zrcala i vanjskih zrcala

**16.Vozeći cestom naiđete na mjesto obilježeno ovim prometnim znakom.Kako ćete postupiti?**



1. ako nema pješaka, pažljivo nastaviti vožnju
2. ako ima pješaka, stati i propustiti pješake
3. ako je pješak tek stupio na kolnik, običi ga na sigurnom razmaku

**17. Namjeravate se vozilom s ceste bez suvremenoga kolničkog zastora uključiti u promet u situaciji kao na slici? Kako ćete postupiti?**



1. uključiti pokazivač smjera
2. uvjeriti se da to možete učiniti sigurno
3. uključiti duga svjetla

**18.Prema čemu je vozač dužan prilagoditi brzinu kretanja vozila?**

1. prema maksimalnoj snazi motora vozila
2. prema osobinama i stanju ceste
3. prema vidljivosti i preglednosti


**19. Što morate učiniti prije svakog mijenjanja prometne trake?**

1. upozoriti druge sudionike u prometu uključivanjem svih pokazivača smjera
2. upozoriti druge sudionike u prometu dajući im znak pokazivačem smjera
3. upozoriti vozača vozila ispred naizmjeničnim paljenjem dugih i kratkih svjetala

**20. Kada vozač ne smije vozilom ući na raskrižje iako je na semaforu upaljeno zeleno svjetlo?**


1. ako se zbog gustoće prometa mora zaustaviti u raskrižju
2. ako je gustoća prometa s bočnih strana velika
3. ako se zbog gustoće prometa mora zaustaviti na obilježenoj pješačkom prijelazu

**21. Kako ćete postupiti u situaciji kao na slici?**




1. propustiti vozilo koje nailazi s moje desne strane
2. voziti prije vozila koje dolazi iz suprotnog smjera
3. propustiti vozilo koje dolazi iz suprotnog smjera

22. Zbog čega ćete u situaciji kao na slici voziti prije crvenog automobila?




1. zbog toga što nailazi s lijeve strane
2. zbog toga što nailazite s desne strane
3. zbog toga što se nailazi na sporednoj cesti

23. Kako ćete postupiti u situaciji kao na slici?



1. propustiti motocikl i voziti prije osobnog automobila
2. propustiti osobni automobil i voziti prije motocikla
3. propustiti oba vozila

24. Kako ćete postupiti ako je na semaforu upaljeno žuto treptće svjetlo u situaciji kao na slici?



1. propustiti motocikl
2. propustiti autobus
3. voziti prije autobusa

25. S koje se strane mimoilaze vozila kada na raskrižju dolaze iz suprotnih smjerova i skreću ulijevo?

1. s desne strane
2. s lijeve strane

26. O čemu morate voditi računa ako želite pretjecati teretni automobil?



1. o tome pretječe li vas drugo vozilo
2. o vozilima koja nailaze iz suprotnog smjera

27. Kolika mora biti najmanja širina slobodnog prolaza na dijelu ceste od zaustavljenog ili parkiranog vozila do suprotnog ruba kolnika?

28. Što se ne smije činiti vozilom na cesti u situaciji na slici?



1. polukružno okretati vozilo i kretati se vozilom unatrag
2. pretjecati druga vozila
3. požurivati vozila ispred sebe davanjem svjetlosnih i zvučnih znakova

29. Što morate imati od navedenog kao obveznu opremu u osobnom automobilu?

1. retroreflektirajući prsluk
2. protupožarni aparat
3. kutiju prve pomoći

30. Čemu služe pokazivači smjera na motornom vozilu?

1. za obavješćivanje drugih sudionika u prometu o smanjenju brzine
2. za obavješćivanje drugih sudionika u prometu o promjeni smjera kretanja

31. Kako moraju biti označena oba vozila za vrijeme vuče neispravnog vozila?

1. sa sigurnosnim trokutom na svakom vozilu
2. crvenom tkaninom ili crvenim svjetlom sa stražnje strane vučenog vozila
3. žutim rotacijskim svjetlima na krovu obaju vozila

**32. Naišli ste na zaustavljeno vozilo kojim se organizirano prevoze djeca, u situaciji kao na slici. Kako ćete postupiti?**



1. smanjenom brzinom proći pokraj vozila uz davanje upozorenja zvučnim znakom
2. zaustaviti svoje vozilo
3. omogućiti prelazak djece preko kolnika

**33. Kako ćete postupiti u situaciji kao na slici?**



1. voziti brzinom do 80 km na sat
2. pravodobno prilagoditi brzinu vožnje s obzirom na prometne znakove
3. obvezno se zaustaviti ispred pješačkog prijelaza ako nailaze pješaci

**34. U gradu vozite u usporednim kolonama vozila, kao u situaciji na slici. Koje su moguće opasnosti?**



1. nalijetanje na vozila ispred
2. zasljepljivanje od vozila iz suprotnog smjera
3. iznenadno mijenjanje prometne trake

**35. Što podrazumijeva vožnja prilagođenom brzinom?**

1. vožnju brzinom prilagođenom uvjetima vožnje
2. mogućnost pravodobnog zaustavljanja vozila pred svakom zaprekom
3. vožnju najvećom brzinom do željenog odredišta

**36. U kojim je situacijama potrebno povećati vremenski razmak u vožnji između vozila od dvije sekunde na tri sekunde?**

1. ako vozilom upravljaju mladi vozači s nedovoljno vozačkog iskustva
2. ako je magla, moker i sklizak kolnik
3. ako se vozi iza vozila koje prevozi životinje

**37. Gdje se na cesti izvan naselja smije pretjecati u situaciji kao na slici?**



1. gdje nema prometnog znaka koji to zabranjuje
2. gdje postoji potrebna preglednost, širina ceste i dobra vidljivost
3. gdje nailaze vozila iz suprotnog smjera

**38. Mora li vozač koji naiđe na mjesto prometne nesreće prevesti ozlijeđenu osobu na zahtjev ovlaštene osobe do najbliže zdravstvene ustanove?**

1. mora
2. ne mora ako osoba krvari
3. ne mora ako je osoba pod utjecajem alkohola

**39. Kada ne smijete za vožnje noću upotrebljavati duga svjetla za osvijetljavanje ceste?**

1. kada postoji opasnost zasljepljivanja drugog vozača
2. kada vozilom prolazite pokraj kolone pješaka
3. kada vozite cestom izvan naselja

**40. Zbog čega nastaje vodeni klin (aquaplaning)?**

1. zbog velike količine vode na kolniku
2. zbog male dubine utora guma
3. zbog male brzine vožnje

<b>Test 10</b>	
1.	1
2.	1
3.	13
4.	12
5.	13
6.	23
7.	13
8.	2
9.	3
10.	23
11.	3
12.	3
13.	1
14.	13
15.	1
16.	12
17.	12
18.	23
19.	2
20.	13
21.	13
22.	12
23.	1
24.	13
25.	1
26.	12
27.	4m
28.	123
29.	13
30.	2
31.	1
32.	23
33.	23
34.	13
35.	12
36.	12
37.	12
38.	1
39.	12
40.	12