

**1. Što je kolnik?**

1. dio cestovne površine namijenjen u prvom redu za promet vozila, s jednom prometnom trakom ili više prometnih traka
2. dio cestovne površine namijenjen u prvom redu za promet pješaka, s jednom pješačkom stazom ili više pješačkih staza

**2. Koliko kolničkih traka ima cesta u situaciji kao na slici?**



1. jednu
2. dvije
3. tri

**3. Na čemu se mora temeljiti ponašanje sudionika u prometu?**

1. na međusobnom uvažavanju
2. na agresivnom ponašanju
3. na partnerskom odnosu

**4. Kojom se cestom kreće vozilo u situaciji kao na slici?**



1. brzom cestom
2. autocestom
3. cestom namijenjenom isključivo za promet motornih vozila

**5. Što može povećati pozornost vozača za vrijeme vožnje?**

1. koncentracija na vožnju
2. predviđanje i očekivanje opasnosti
3. razgovor mobitelom

**6. Čime je određeno značenje prometnog znaka?**

1. položajem znaka uz cestu
2. oblikom prometnog znaka
3. simbolom na prometnom znaku

**7. Gdje se na cesti postavljaju prometni znakovi izričitih naredaba?**

1. neposredno na mjestima od kojih počinje obveza pridržavanja naredbe izražene znakom
2. 150 do 250 metara prije mjesta od kojeg počinje obveza pridržavanja naredbe izražene znakom

**8. Kako ćete postupiti nakon ovoga prometnog znaka?**



1. voziti ravno ili udesno
2. skrenuti lijevo
3. voziti samo ravno

**9. O čemu vozača obavještava znak na slici?**



1. pružanju cestovnih smjerova
2. udaljenosti do određenog mjesta
3. potvrdi smjera kretanja nakon prolaska raskrižja

**10. Kako se najavljuje približavanje vlaka svjetlosnim znakom na slici?**



1. izmjenično paljenjem dvaju crvenih svjetala
2. stalno upaljenim crvenim svjetlima
3. stalno upaljenim crvenim svjetlima i zvučnim znakovima

**11. Što označuje kosa crta na kolniku u situaciji kao na slici?**



1. mjesto otvaranja prometne trake za vozila javnog prijevoza putnika
2. mjesto otvaranja prometne trake za zaustavljanje vozila u nuždi
3. mjesto otvaranja ulazne trake na brzom cesti

**12. Što vozaču omogućuje prepoznavanje i izbjegavanje mogućih opasnih situacija tijekom vožnje?**

1. vožnja sa smanjenom pozornošću
2. vožnja maksimalno dopuštenom brzinom
3. pravodobno uočavanje prometne situacije

**13. Pomoću čega vozač procjenjuje brzinu svog vozila?**



1. pomoću brzinomjera u vozilu
2. pomoću vizualnih i slušnih informacija
3. pomoću kretanja drugih vozila

**14. Kojom prometnom površinom se kreću pješaci na slici?**




1. pješačkom stazom
2. obilježenim pješačkim prijelazom
3. nogostupom

**15. Što mora učiniti vozač prije započinjanja neke radnje vozilom u prometu?**

1. uvjeriti se da radnju može obaviti bez opasnosti za druge sudionike u prometu
2. uvjeriti se da radnju može obaviti uz što manji razmak između vozila

**16. Smijete li se svojim vozilom kretati srednjom prometnom trakom na cesti u situaciji kao na slici?**



1. smijete kada se pretječe vozila koja se kreću sporije
2. smijete kada se mora zaustaviti zbog kvara na vozilu
3. ne smijete, jer je ta traka namijenjena samo za spora

**17. Kako se morate ponašati u susretu s vozilima s pravom prednosti prolaska?**

1. smanjiti brzinu i povećati pozornost prema tim vozilima
2. omogućiti prolazak tim vozilima
3. nastaviti vožnju povećanom brzinom


**18. Koliko iznosi najveća dopuštena brzina kretanja vozila koje vuče drugo neispravno vozilo?**

1. 40 km na sat
2. 50 km na sat
3. 60 km na sat

**19. Kako ćete postupiti kada svojim vozilom ulazite s ceste bez suvremenoga kolničkog zastora na cestu sa suvremenim kolničkim zastorom i kada ta cesta nije prometnim znakom označena kao cesta s prednošću prolaska?**


1. propustiti isključivo vozila koja nailaze s desne strane
2. propustiti sva vozila koja se kreću tom cestom
3. propustiti vozila koja dolaze isključivo iz suprotnog smjera

**20. Kako ćete postupiti u situaciji kao na slici?**




1. propustiti crni automobil
2. propustiti crveni automobil
3. voziti prije crnog automobila

**21. Zbog čega morate, u situaciji kao na slici, propustiti vozilo koje nailazi iz suprotnog smjera?**



1. zbog toga što zadržava smjer kretanja
2. zbog toga što nailazi cestom s prednošću prolaska

**22. Kako ćete postupiti ako je na semaforu upaljeno žuto trepteće svjetlo u situaciji kao na slici?**



1. propustiti motocikl
2. propustiti autobus
3. voziti prije autobusa

**23. Zbog čega morate, u situaciji kao na slici, propustiti motocikl?**



1. zbog toga što nailazim na cestu s prednošću prolaska
2. zbog toga što nailazite s lijeve strane
3. zbog toga što zadržavate smjer vožnje

**24. S koje se strane, u pravilu, obavlja pretjecanje?**

1. s lijeve strane
2. s desne strane

**25. Što se ne smije činiti vozilom ako se vozi cestom na kojoj postoje najmanje dvije prometne trake za promet u istom smjeru i na kojima su kolone vozila u situaciji kao na slici?**



1. kretati se lijevom prometnom trakom
2. kretati se desnom prometnom trakom
3. prelaziti vozilom iz trake u traku (voziti slalom)

**26. Što se označuje svjetlosnim znakom na slici?**



1. mjesto na kojemu se obavljaju radovi
2. prijelaz ceste preko željezničke pruge
3. raskrižje na kojemu se prometom upravlja prometnim svjetlima

**27. Što označuje žaruljica na instrumentnoj ploči sa simbolom kao na slici?**



1. temperaturu rashladne tekućine
2. tlak motornog ulja
3. punjenje akumulatora

**28. Što označuje žaruljica na instrumentnoj ploči sa simbolom kao na slici?**



1. uključena duga svjetla
2. uključena prednja svjetla za maglu
3. uključena kratka svjetla za maglu

**29. Kolika je najmanja dopuštena dubina utora guma? milimetri**

**30. Koja su bitna obilježja vožnje u gradu?**



1. mala količina ispušnih plinova od vozila
2. velik broj prometnih znakova
3. različita struktura vozila

**31. Kako vozač, u situaciji kao na slici, može skrenuti udesno?**



1. vozeći prometnom trakom uz desni rub kolnika
2. prestrojavanjem u srednju prometnu traku i iz nje obaviti skretanje
3. prestrojavanjem u krajnju lijevu prometnu traku i iz nje obaviti skretanje

**32. Što karakterizira vožnju izvan naselja?**

1. vožnja u kolonama i brojna pretjecanja
2. brojna i različita raskrižja
3. veće brzine vožnje

**33. Koji su najčešći razlozi događanja prometnih nesreća nalijetanjem na vozilo koje na cesti usporava i skreće?**

1. pogrešna procjena brzine vozila koje usporava
2. vožnja na premalom razmaku iza vozila
3. vožnja na prevelikom razmaku iza vozila

**34. Što je dužan učiniti vozač vozila koje se kreće brzinom manjom od najveće dopuštene na cesti ili dijelu ceste, pa se zbog toga iza njega stvori kolona vozila?**



1. gledati kako ga vozila pretječu
2. na prvom pogodnom mjestu isključiti se iz prometa i propustiti kolonu
3. vozila što dulje voziti sporo, kako bi se stvorila veća

**35. Na kojim se mjestima u prometu na cesti izvan naselja vozač ne smije vozilom zaustaviti?**



1. na mjestima gdje bi položajem svoga vozila ugrožavao odvijanje prometa
2. na mjestima gdje bi položajem svoga vozila ometao odvijanje prometa
3. na mjestima gdje bi položajem svoga vozila poboljšao sigurnost prometa

**36. Koji su najčešći uzroci događanja prometnih nesreća?**



1. nedostatno vozačko iskustvo
2. vožnja neprilagođenom brzinom
3. vožnja pod utjecajem alkohola i droge
4. vožnja brzinom prilagođenom uvjetima vožnje

**37. Kako ćete postupiti u ovoj situaciji?**



1. pogled usmjeriti prema sredini kolnika
2. pogled usmjeriti prema desnom rubu kolnika
3. smanjiti brzinu vožnje

**38. Vozite po magli. Koja svjetla za osvjetljavanje ceste morate koristiti?**

1. svjetla za maglu ili kratka svjetla
2. prednja pozicijska svjetla
3. duga svjetla

<b>Test 1</b>	
1.	1
2.	2
3.	13
4.	2
5.	12
6.	23
7.	1
8.	23
9.	23
10.	1
11.	1
12.	3
13.	12
14.	3
15.	1
16.	1
17.	12
18.	1
19.	2
20.	23
21.	1
22.	13
23.	1
24.	1
25.	3
26.	2
27.	2
28.	2
29.	1.6 mm
30.	23
31.	12
32.	13
33.	12
34.	2
35.	12
36.	123
37.	23
38.	1
39.	x